

Signature and Name of Invigilator

1. (Signature) \_\_\_\_\_

(Name) \_\_\_\_\_

2. (Signature) \_\_\_\_\_

(Name) \_\_\_\_\_

OMR Sheet No. : .....  
(To be filled by the Candidate)

Roll No. 

--	--	--	--	--	--	--	--

(In figures as per admission card)

Roll No. \_\_\_\_\_

(In words)

**N 0 1 5 1 7**

**PAPER - II**

**POPULATION STUDIES**

[Maximum Marks : 100

Time : 1¼ hours]

Number of Pages in this Booklet : 24

Number of Questions in this Booklet : 50

**Instructions for the Candidates**

- Write your roll number in the space provided on the top of this page.
- This paper consists of fifty multiple-choice type of questions.
- At the commencement of examination, the question booklet will be given to you. In the first 5 minutes, you are requested to open the booklet and compulsorily examine it as below :
  - To have access to the Question Booklet, tear off the paper seal on the edge of this cover page. Do not accept a booklet without sticker-seal and do not accept an open booklet.
  - Tally the number of pages and number of questions in the booklet with the information printed on the cover page. Faulty booklets due to pages/questions missing or duplicate or not in serial order or any other discrepancy should be got replaced immediately by a correct booklet from the invigilator within the period of 5 minutes. Afterwards, neither the Question Booklet will be replaced nor any extra time will be given.
  - After this verification is over, the Test Booklet Number should be entered on the OMR Sheet and the OMR Sheet Number should be entered on this Test Booklet.
- Each item has four alternative responses marked (1), (2), (3) and (4). You have to darken the circle as indicated below on the correct response against each item.

Example : ① ② ● ④ where (3) is the correct response.
- Your responses to the items are to be indicated in the **OMR Sheet given inside the Booklet only**. If you mark your response at any place other than in the circle in the OMR Sheet, it will not be evaluated.
- Read instructions given inside carefully.
- Rough Work is to be done in the end of this booklet.
- If you write your Name, Roll Number, Phone Number or put any mark on any part of the OMR Sheet, except for the space allotted for the relevant entries, which may disclose your identity, or use abusive language or employ any other unfair means, such as change of response by scratching or using white fluid, you will render yourself liable to disqualification.
- You have to return the original OMR Sheet to the invigilators at the end of the examination compulsorily and must not carry it with you outside the Examination Hall. You are however, allowed to carry original question booklet and duplicate copy of OMR Sheet on conclusion of examination.
- Use only Blue/Black Ball point pen.
- Use of any calculator or log table etc., is prohibited.
- There are no negative marks for incorrect answers.
- In case of any discrepancy in the English and Hindi versions, English version will be taken as final.

**परीक्षार्थियों के लिए निर्देश**

- इस पृष्ठ के ऊपर नियत स्थान पर अपना रोल नम्बर लिखिए।
- इस प्रश्न-पत्र में पचास बहुविकल्पीय प्रश्न हैं।
- परीक्षा प्रारम्भ होने पर, प्रश्न-पुस्तिका आपको दे दी जायेगी। पहले पाँच मिनट आपको प्रश्न-पुस्तिका खोलने तथा उसकी निम्नलिखित जाँच के लिए दिये जायेंगे, जिसकी जाँच आपको अवश्य करनी है :
  - प्रश्न-पुस्तिका खोलने के लिए पुस्तिका पर लगी कागज की सील को फाड़ लें। खुली हुई या बिना स्टीकर-सील की पुस्तिका स्वीकार न करें।
  - कवर पृष्ठ पर छपे निर्देशानुसार प्रश्न-पुस्तिका के पृष्ठ तथा प्रश्नों की संख्या को अच्छी तरह चैक कर लें कि ये पूरे हैं। दोषपूर्ण पुस्तिका जिनमें पृष्ठ/प्रश्न कम हों या दुबारा आ गये हों या सीरियल में न हों अर्थात् किसी भी प्रकार की त्रुटिपूर्ण पुस्तिका स्वीकार न करें तथा उसी समय उसे लौटाकर उसके स्थान पर दूसरी सही प्रश्न-पुस्तिका ले लें। इसके लिए आपको पाँच मिनट दिये जायेंगे। उसके बाद न तो आपकी प्रश्न-पुस्तिका वापस ली जायेगी और न ही आपको अतिरिक्त समय दिया जायेगा।
  - इस जाँच के बाद प्रश्न-पुस्तिका का नंबर OMR पत्रक पर अंकित करें और OMR पत्रक का नंबर इस प्रश्न-पुस्तिका पर अंकित कर दें।
- प्रत्येक प्रश्न के लिए चार उत्तर विकल्प (1), (2), (3) तथा (4) दिये गये हैं। आपको सही उत्तर के वृत्त को पेन से भरकर काला करना है जैसा कि नीचे दिखाया गया है।

उदाहरण : ① ② ● ④ जबकि (3) सही उत्तर है।
- प्रश्नों के उत्तर केवल प्रश्न पुस्तिका के अन्दर दिये गये OMR पत्रक पर ही अंकित करने हैं। यदि आप OMR पत्रक पर दिये गये वृत्त के अलावा किसी अन्य स्थान पर उत्तर चिह्नित करते हैं, तो उसका मूल्यांकन नहीं होगा।
- अन्दर दिये गये निर्देशों को ध्यानपूर्वक पढ़ें।
- कच्चा काम (Rough Work) इस पुस्तिका के अन्तिम पृष्ठ पर करें।
- यदि आप OMR पत्रक पर नियत स्थान के अलावा अपना नाम, रोल नम्बर, फोन नम्बर या कोई भी ऐसा चिह्न जिससे आपकी पहचान हो सके, अंकित करते हैं अथवा अभद्र भाषा का प्रयोग करते हैं, या कोई अन्य अनुचित साधन का प्रयोग करते हैं, जैसे कि अंकित किये गये उत्तर को मिटाना या सफेद स्याही से बदलना तो परीक्षा के लिये अयोग्य घोषित किये जा सकते हैं।
- आपको परीक्षा समाप्त होने पर मूल OMR पत्रक निरीक्षक महोदय को लौटाना आवश्यक है और परीक्षा समाप्ति के बाद उसे अपने साथ परीक्षा भवन से बाहर न लेकर जायें। हालांकि आप परीक्षा समाप्ति पर मूल प्रश्न-पुस्तिका तथा OMR पत्रक की डुप्लीकेट प्रति अपने साथ ले जा सकते हैं।
- केवल नीले/काले बाल प्वाइंट पेन का ही प्रयोग करें।
- किसी भी प्रकार का संगणक (कैलकुलेटर) या लाग टेबल आदि का प्रयोग वर्जित है।
- गलत उत्तरों के लिए कोई नकारात्मक अंक नहीं हैं।
- यदि अंग्रेजी या हिंदी विवरण में कोई विसंगति हो, तो अंग्रेजी विवरण अंतिम माना जाएगा।



**POPULATION STUDIES**  
**PAPER - II**

**Note :** This paper contains **fifty (50)** objective type questions of **two (2)** marks each. **All** questions are **compulsory**.

1. Which of the following characteristic is **not** included in the definition of a modern census ?
  - (1) Collection of data for each and every individual
  - (2) Collection of data for each household
  - (3) Collection of data refers to a well-defined date
  - (4) Collection of data refers to a well-defined area
  
2. On which of the following dates, *World Health Day* is celebrated ?
  - (1) Oct. 24
  - (2) April 25
  - (3) April 7
  - (4) Nov. 19
  
3. Which among the following states is having highest percent of children age 12-23 months covered by measles vaccine, according to NFHS - 4, 2015-16 fact-sheet ?
  - (1) Tamil Nadu
  - (2) Kerala
  - (3) Karnataka
  - (4) Maharashtra
  
4. Which among the following indicators, is used in Gender Empowerment Measure (GEM) ?
  - (1) Life Expectancy differentials
  - (2) Differentials in the level of education
  - (3) Women's relative income
  - (4) All of the above
  
5. Which of the following state is **not** included in the category of 'Empowered Action Group'(EAG) states ?
  - (1) Uttarakhand
  - (2) Odisha
  - (3) Assam
  - (4) Rajasthan
  
6. Which among the following is the approximate total population of Transgenders in India according to 2011 Census ?
  - (1) Less than one lakh
  - (2) 2 - 3 lakhs
  - (3) 4 - 5 lakhs
  - (4) 8 lakhs and above
  
7. Which one of the following statement is **correct** to use indirect method of standardization to estimate standardized birth rate ?
  - (1) Age - specific fertility rates for the reference population are known.
  - (2) Age - specific fertility rates for the reference population are not known.
  - (3) Age - specific fertility rates for the standard population are known.
  - (4) Age - specific fertility rates for the standard population are not known.



## जनसंख्या अध्ययन

### प्रश्नपत्र - II

निर्देश : इस प्रश्नपत्र में पचास (50) बहु-विकल्पीय प्रश्न हैं। प्रत्येक प्रश्न के दो (2) अंक हैं। सभी प्रश्न अनिवार्य हैं।

- आधुनिक जनगणना की परिभाषा में निम्नलिखित में से किस विशेषता को सम्मिलित नहीं किया जाता रहा है ?
  - प्रत्येक व्यक्ति के बारे में आंकड़ों का संग्रहण।
  - प्रत्येक परिवार के बारे में आंकड़ों का संग्रहण।
  - आंकड़ों का संग्रहण एक विशेष तिथि के अनुसार किया जाता है।
  - आंकड़ों का संग्रहण का तात्पर्य एक सुपरिभाषित क्षेत्र से है।
- विश्व स्वास्थ्य दिवस को निम्नलिखित में से किस तारीख को मनाया जाता है ?
  - 24 अक्टूबर
  - 25 अप्रैल
  - 7 अप्रैल
  - 19 नवंबर
- एन.एफ.एच.एस.- 4, 2015-16 की तथ्य शीट के अनुसार निम्नलिखित में से कौन-सा राज्य है, जहाँ सर्वाधिक (प्रतिशत में) 12-23 माह की उम्र के बच्चों को खसरा का टीका लगाया गया ?
  - तमिलनाडु
  - केरल
  - कर्नाटक
  - महाराष्ट्र
- निम्नलिखित में से किस संकेतक का प्रयोग लिंग सशक्तीकरण माप (जी.ई.एम.) में किया जाता है ?
  - जीवन-प्रत्याशा विभेदक
  - शिक्षा के स्तर में विभेदक
  - महिलाओं की सापेक्ष आय
  - उपर्युक्त सभी
- 'शक्ति-सम्पन्न कार्य समूह' (इम्पावर्ड एक्शन ग्रुप) के राज्यों की श्रेणी में निम्नलिखित में से किस राज्य को सम्मिलित नहीं किया गया है ?
  - उत्तराखंड
  - ओडिशा
  - असम
  - राजस्थान
- निम्न में कौन-सा 2011 की जनगणना के अनुसार भारत में 'ट्रान्सजेन्डर्स' की लगभग कुल जनसंख्या है ?
  - एक लाख से कम
  - 2 - 3 लाख
  - 4 - 5 लाख
  - 8 लाख और इससे अधिक
- मानकीकृत जन्म दर का अनुमान लगाने में मानकीकरण की अप्रत्यक्ष पद्धति के प्रयोग के बारे में निम्नलिखित में से कौन-सा कथन सही है ?
  - संदर्भित जनसंख्या की आयु-विशिष्ट जननक्षमता दरें (एज-स्पेसिफिक फर्टिलिटी रेट्स) ज्ञात हैं।
  - संदर्भित जनसंख्या की आयु-विशिष्ट जननक्षमता दरें ज्ञात नहीं हैं।
  - मानक जनसंख्या की आयु-विशिष्ट जननक्षमता दरें ज्ञात हैं।
  - मानक जनसंख्या की आयु-विशिष्ट जननक्षमता दरें ज्ञात नहीं हैं।



8. Which of the following indicates Male - Female gap in the literacy rate of India, based on 2011 census ?

- (1) 0 - 5 percent      (2) 5 - 10 percent      (3) 10 - 15 percent      (4) 15 - 20 percent

9. Internal migration in India is characterised by some of the following facts :

- (a) Greater mobility among male than female  
(b) 'Employment' is the main reason of migration for male while 'marriage' is for female  
(c) Sex ratio of migrants declines sharply as distance increases  
(d) Marriage is the single largest reason of overall migration

Find out the correct combination using code given below :

**Code :**

- (1) (a), (b) and (c)      (2) (a), (c) and (d)      (3) (b), (c) and (d)      (4) (a), (b) and (d)

10. Which amongst the following **does not** come under the purview of the Cigarettes and Other Tobacco Product Act (COTPA), 2003 ?

- (1) Additional cess on trade and distribution of cigarette and other tobacco products  
(2) Prohibition of advertisement, sale and supply of cigarettes and other tobacco products  
(3) Prohibition of smoking in public places  
(4) Prohibition on sale of cigarettes and other tobacco products to a person below the age of 18 years

11. **Assertion (A) :** Male participation in reproductive and child health matters is low.

**Reason (R) :** Males usually believe that antenatal care and safe delivery are solely "Women's affairs" in which they have limited role to play.

**Code :**

- (1) Both (A) and (R) are true and (R) may be one of the correct explanation of (A).  
(2) Both (A) and (R) are true, but (R) is not the correct explanation of (A).  
(3) (A) is true, but (R) is false.  
(4) (A) is false, but (R) is true.



8. 2011 की जनगणना पर आधारित, भारत में साक्षरता दर की दृष्टि से पुरुष-महिला अंतर (लगभग), निम्न में कौन-सा है?

- (1) 0 - 5 प्रतिशत      (2) 5 - 10 प्रतिशत      (3) 10 - 15 प्रतिशत      (4) 15 - 20 प्रतिशत

9. भारत में 'आंतरिक प्रवसन' का निम्नलिखित में से किन तथ्यों द्वारा वर्णन किया जाता है?

- (a) महिलाओं की तुलना में पुरुषों के बीच अधिक सचलता (मोबिलिटी)।  
(b) पुरुषों के प्रवसन के लिए 'रोजगार' मुख्य कारण है, जबकि महिलाओं के लिए 'विवाह' मुख्य कारण है।  
(c) दूरी बढ़ने पर प्रवासियों के लिंगानुपात में भारी कमी आती है।  
(d) विवाह प्रवसन का समग्र रूप से एक मात्र सबसे बड़ा कारण है।

नीचे दिए कूट का उपयोग करके सही संयोजन बताइए।

**कूट :**

- (1) (a), (b) और (c)      (2) (a), (c) और (d)      (3) (b), (c) और (d)      (4) (a), (b) और (d)

10. सिगरेट और अन्य उत्पाद अधिनियम (सी.ओ.टी.पी.ए.) 2003 के क्षेत्राधिकार के अंतर्गत निम्नलिखित में कौन-सा नहीं है?

- (1) सिगरेट और अन्य तम्बाकू उत्पादों के व्यापार एवं वितरण पर सेस (उपकर)।  
(2) सिगरेट और अन्य तम्बाकू उत्पादों के विज्ञापन, बिक्री और आपूर्ति पर निषेध।  
(3) सार्वजनिक स्थानों में धूम्रपान पर निषेध।  
(4) 18 वर्ष से कम आयु के व्यक्ति को सिगरेट और अन्य तम्बाकू उत्पादों की बिक्री पर निषेध।

11. **अभिकथन (A) :** पुरुषों की प्रजननीय और बाल स्वास्थ्य के मामलों में भागीदारी कम होती है।

**तर्क (R) :** पुरुष प्रायः मानते हैं कि प्रसव-पूर्व देखभाल और सुरक्षित प्रसव पूर्णरूपेण "महिलाओं का मामला" है, जिसमें उनकी सीमित भूमिका है।

**कूट :**

- (1) (A) एवं (R) दोनों सही हैं, लेकिन (R), (A) की एक सही व्याख्या हो सकता है।  
(2) (A) एवं (R) दोनों सही हैं, लेकिन (R), (A) की सही व्याख्या नहीं है।  
(3) (A) सही है, लेकिन (R) गलत है।  
(4) (A) गलत है, लेकिन (R) सही है।



12. Match the terminology given in **List - I** with the elaboration provided in **List - II**.

**List - I**

**List - II**

- |                               |  |
|-------------------------------|--|
| (a) Environmental determinism | (i) A doctrine that stresses the influence of environment on human behaviour |
| (b) Environmental possibilism | (ii) The type and extent of human activity by season                         |
| (c) Environmentalism          | (iii) A doctrine that stresses control of environment on human activities    |
| (d) Ergograph                 | (iv) A doctrine that analyses the possibilities provided by the environment  |

**Code :**

- |     | (a)   | (b)   | (c)   | (d)   |
|-----|-------|-------|-------|-------|
| (1) | (iv)  | (iii) | (i)   | (ii)  |
| (2) | (i)   | (iv)  | (ii)  | (iii) |
| (3) | (iv)  | (i)   | (iii) | (ii)  |
| (4) | (iii) | (iv)  | (i)   | (ii)  |

13. Which among the following is proportion of households headed by females in India, according to 2011 census ?

- (1) 10 - 15%                      (2) 15 - 20%                      (3) 20 - 25%                      (4) 25 - 30%

14. Arrange the following states, low to high, by their level of crude death rate according to the SRS Bulletin, December 2016 using code given below :

- (a) Kerala  
(b) West Bengal  
(c) Maharashtra  
(d) Goa

**Code :**

- (1) (a), (b), (c), (d)  
(2) (b), (c), (d), (a)  
(3) (c), (b), (d), (a)  
(4) (d), (c), (b), (a)



12. नीचे दिए गए कूट का प्रयोग करते हुए सूची - I में दी गई शब्दावली से सूची - II में दर्शाए गए उनके विस्तृत वर्णन से सुमेलित कीजिए :

**सूची - I**

- (a) पर्यावरणीय निश्चयवाद  
(एनवायरनमेंटल डिटरमिनिज्म)
- (b) पर्यावरणीय संभावनावाद  
(एनवायरनमेंटल पॉसिबिलिज्म)
- (c) पर्यावरणीयवाद
- (d) इर्गोग्राफ (पेशियों का कार्य मापन और आलेखन का यंत्र)

**सूची - II**

- (i) वह सिद्धांत, जो मानव व्यवहार पर पर्यावरण के प्रभाव पर बल देता है।
- (ii) मौसम पर आधारित मानव गतिविधि का प्रकार और दायरा।
- (iii) वह सिद्धांत, जो मानव गतिविधि पर पर्यावरण के नियंत्रण पर बल देता है।
- (iv) वह सिद्धांत, जो पर्यावरण द्वारा प्रदत्त संभावनाओं का विश्लेषण करता है।

**कूट :**

- |     | (a)   | (b)   | (c)   | (d)   |
|-----|-------|-------|-------|-------|
| (1) | (iv)  | (iii) | (i)   | (ii)  |
| (2) | (i)   | (iv)  | (ii)  | (iii) |
| (3) | (iv)  | (i)   | (iii) | (ii)  |
| (4) | (iii) | (iv)  | (i)   | (ii)  |

13. वर्ष 2011 की जनगणना के अनुसार, भारत में महिला प्रधान परिवारों का प्रतिशत निम्न में कौन-सा है ?


- (1) 10 - 15%                      (2) 15 - 20%                      (3) 20 - 25%                      (4) 25 - 30%

14. नीचे दिए गए कूट का प्रयोग करके एस.आर.एस. बुलेटिन, दिसंबर 2016 के अनुसार निम्नलिखित राज्यों को उनकी अशोधित मृत्यु दर के स्तर को, निम्न से उच्च की ओर, व्यवस्थित कीजिए ?

- (a) केरल
- (b) पश्चिम बंगाल
- (c) महाराष्ट्र
- (d) गोवा

**कूट :**

- (1) (a), (b), (c), (d)
- (2) (b), (c), (d), (a)
- (3) (c), (b), (d), (a)
- (4) (d), (c), (b), (a)



15. The government of India has recently launched 'Mission Parivar Vikas' for high fertility districts with following details :
- (a) Total 145 districts will be covered
  - (b) Seven high focus states will be covered
  - (c) Selected districts contribute to 30% of maternal deaths and 50% of infant deaths
- Which one of the following code is correct ?
- (1) Only (a) and (c)
  - (2) Only (a)
  - (3) Only (b) and (c)
  - (4) All (a), (b) and (c)

16. Match the following propositions in **List - I** with the proponent of migration models in **List - II** using code given below :

<b>List - I</b>	<b>List - II</b>
(a) Migration occurs in stages	(i) E.S. Lee
(b) Diversity in the nature of places promotes volume of migration	(ii) M. Todaro
(c) Volume of migration between two places is directly proportional to their population sizes and inversely proportional to distance separating them	(iii) Revenstein
(d) Migration is more of a response to expected benefits than actual ones	(iv) K. Zipf

**Code :**

- |     | <b>(a)</b> | <b>(b)</b> | <b>(c)</b> | <b>(d)</b> |
|-----|------------|------------|------------|------------|
| (1) | (iii)      | (i)        | (iv)       | (ii)       |
| (2) | (i)        | (iii)      | (iv)       | (ii)       |
| (3) | (ii)       | (i)        | (iii)      | (iv)       |
| (4) | (i)        | (ii)       | (iii)      | (iv)       |

17. Which of the following combination rightly describes major states of India in descending (higher to lower ) order of levels of urbanisation ? Answer using code given below :
- (a) Gujarat
  - (b) Punjab
  - (c) Kerala
  - (d) Tamil Nadu

**Code :**

- (1) (c), (d), (b), (a)
- (2) (d), (c), (a), (b)
- (3) (d), (a), (c), (b)
- (4) (d), (b), (c), (a)





15. हाल ही में भारत सरकार ने उच्च जननक्षमता वाले जिलों के लिए 'मिशन परिवार विकास' को निम्न विवरण के अनुसार लॉन्च किया है :

- (a) इसमें कुल 145 जिलों को सम्मिलित किया जाएगा।  
(b) इसमें सात उच्च-फोकस वाले राज्यों को सम्मिलित किया जाएगा।  
(c) चयनित जिलों की मातृत्व मृत्यु में 30 प्रतिशत और शिशु मृत्यु में 50 प्रतिशत हिस्सेदारी है।  
निम्नलिखित में से कौन-सा कूट सही है?

- (1) केवल (a) और (c) (2) केवल (a)  
(3) केवल (b) और (c) (4) सभी (a), (b) और (c)

16. नीचे दिए गए कूट का प्रयोग करते हुए सूची - I में बतलाए गए प्रस्तावों को सूची - II में दर्शाए गए प्रवसन मॉडल्स के प्रवर्तकों से सुमेलित कीजिए :

**सूची - I**

**सूची - II**

- (a) प्रवसन चरणों में होता है। (i) ई.एस. ली  
(b) स्थानों की प्रकृति में विविधता प्रवसन के परिमाण को जताता है। (ii) एम. टोडेरो  
(c) किन्हीं दो स्थानों के बीच प्रवसन का परिमाण उनकी जनसंख्या के आकारों का प्रत्यक्ष रूप से समानुपाती और उनके बीच दूरी का विलोमानुपाती होता है। (iii) रेवेन्स्टीन  
(d) प्रवसन वास्तविक लाभों की तुलना में आशान्वित लाभों से अधिक होता है। (iv) के. जिफ

**कूट :**


- |     | (a)   | (b)   | (c)   | (d)  |
|-----|-------|-------|-------|------|
| (1) | (iii) | (i)   | (iv)  | (ii) |
| (2) | (i)   | (iii) | (iv)  | (ii) |
| (3) | (ii)  | (i)   | (iii) | (iv) |
| (4) | (i)   | (ii)  | (iii) | (iv) |

17. निम्नलिखित में से कौनसा संयोजन भारत के प्रमुख राज्यों के शहरीकरण के स्तरों के अवरोही क्रम (उच्च से निम्न की ओर) का वर्णन करता है? नीचे दिये कूट का उपयोग करके सही उत्तर चुनें :

- (a) गुजरात  
(b) पंजाब  
(c) केरल  
(d) तमिलनाडु

**कूट :**

- (1) (c), (d), (b), (a) (2) (d), (c), (a), (b)  
(3) (d), (a), (c), (b) (4) (d), (b), (c), (a)



**18. Assertion (A) :**

Between 1650 and 1920, the share of population in developed world increased from 20 percent to 34 percent.

**Reason (R) :**

Significant change in demographic behaviour occurred as a response to overall social and economic development.

**Code :**

- (1) Both (A) and (R) are true and (R) is correct explanation of (A).
- (2) Both (A) and (R) are true, but (R) is not the correct explanation of (A).
- (3) (A) is true, but (R) is false.
- (4) (A) is false, but (R) is true.

**19. Which one of the following states has highest *Population Growth Rate* during 2001 - 2011 Census ?**

- (1) Rajasthan      (2) West Bengal      (3) Uttar Pradesh      (4) Bihar

**20. What percent of the world's population lives in Asia in 2016 ? Select right answer from below :**

- (1) Around 20%      (2) Around 30%      (3) Around 50%      (4) Around 60%

**21. World Fertility Survey was initiated in which of the following year ?**

- (1) 1962      (2) 1972      (3) 1974      (4) 1979

**22. In Bongaart's Proximate Determinants model, which combinations is considered as determinants of natural fertility ?**

- (1) Lactational infecundability, Sterility and Induced abortion
- (2) Sterility, Induced abortion and Coital frequency
- (3) Induced abortion, Coital frequency and Lactational infecundability
- (4) Sterility, Coital frequency and Lactational infecundability

**23. The small town of India has a population of 50,000. If growth rate of population is 2.5%, then how long will it take for the population of this small town to double ?**

- (1) 25 years      (2) 28 years      (3) 31 years      (4) 35 years



18. अभिकथन (A) :

1650 और 1920 के बीच विकसित विश्व में जनसंख्या का हिस्सा 20 प्रतिशत से बढ़कर 34 प्रतिशत हो गया।

तर्क (R) :

जनसांख्यिकीय व्यवहार में महत्वपूर्ण परिवर्तन समग्र सामाजिक और आर्थिक विकास की एक अनुक्रिया (रेसपोन्स) के रूप में होता है।

कूट :

- (1) (A) एवं (R) दोनों सही हैं और (R), (A) की सही व्याख्या है।
- (2) (A) एवं (R) दोनों सही हैं, लेकिन (R), (A) की सही व्याख्या नहीं है।
- (3) (A) सही है, लेकिन (R) गलत है।
- (4) (A) गलत है, लेकिन (R) सही है।

19. 2001 - 2011 की जनगणना के दौरान, निम्नलिखित में से किस राज्य की जनसंख्या वृद्धि दर सर्वोच्च रही है ?

- (1) राजस्थान
- (2) पश्चिम बंगाल
- (3) उत्तर प्रदेश
- (4) बिहार

20. 2016 में एशिया में विश्व की कितने प्रतिशत जनसंख्या रहती है? निम्न में से उपयुक्त उत्तर का चयन करें :

- (1) लगभग 20 प्रतिशत
- (2) लगभग 30 प्रतिशत
- (3) लगभग 50 प्रतिशत
- (4) लगभग 60 प्रतिशत

21. विश्व जननक्षमता सर्वेक्षण, निम्नलिखित में से किस वर्ष में आरंभ किया गया था ?


- (1) 1962
- (2) 1972
- (3) 1974
- (4) 1979

22. बोंगार्ट के समीपवर्ती निर्धारक तत्व मॉडल (बोंगार्टस प्रोक्सीमेट डिटरमिनेंट्स मॉडल) में प्राकृतिक प्रजननता के निर्धारक तत्वों के रूप में निम्नलिखित में से किस संयोजन को माना जाता है ?

- (1) दुग्धीय वंध्यता, वंध्यता और प्रेरित गर्भपात
- (2) वंध्यता, प्रेरित गर्भपात और मैथुन की बारम्बारिता
- (3) प्रेरित गर्भपात, मैथुन की बारम्बारिता और दुग्धीय वंध्यता
- (4) वंध्यता, मैथुन की बारम्बारिता और दुग्धीय वंध्यता

23. भारत के एक लघु कस्बे की जनसंख्या 50,000 है। यदि जनसंख्या की वृद्धि दर 2.5 प्रतिशत है तो इस कस्बे की जनसंख्या दुगुनी होने में कितना समय लगेगा ?

- (1) 25 वर्ष
- (2) 28 वर्ष
- (3) 31 वर्ष
- (4) 35 वर्ष



24. Which of the following combination rightly describes the unique findings of 2011 census ? Answer using code given below :

- (a) Number of new census towns added
- (b) Net gain in urban population was larger than that in rural population
- (c) Absolute number of illiterate population declined
- (d) Improvement in over all sex ratio

**Code :**

- (1) (b), (c) and (d) are correct                      (2) (a), (b) and (c) are correct
- (3) (c) and (d) are correct                              (4) (b) and (d) are correct

25. Which one of the following indicates the 'life expectancy at Birth' for females in the India during 2011-15 ?

- (1) 65 years                      (2) 68 years                      (3) 70 years                      (4) 72 years

26. **Assertion (A) :**

Rate of growth in urban population that was on a declining trend since 1981 witnessed a reversal during 2001 to 2011.

**Reason (R) :**

Rural to urban migration has recorded a significant increase during the decade.

In the context of the two statements, which one of the following is **correct** ?

- (1) Both (A) and (R) are true and (R) is the correct explanation of (A).
- (2) Both (A) and (R) are true, but (R) is not the correct explanation of (A).
- (3) (A) is true, and (R) is false.
- (4) (A) is false, but (R) is true.

27. Which of the following states has the largest number of 'million - plus' cities/urban Agglomerations (UAs) ?

- (1) Tamil Nadu                      (2) Kerala                      (3) Maharashtra                      (4) Gujarat

28. In the light of Human Development Report 2016 which of the following is **not** correct ?

- (1) India's rank in terms of HDI has deteriorated
- (2) India ranks among 'Low human development category'.
- (3) The HDI value of India is 0.624
- (4) India fares better than Pakistan and Bangladesh



24. निम्नलिखित में से कौन-सा संयोजन 2011 की जनगणना के अनूटे निष्कर्षों का वर्णन करता है? नीचे दिए गए कूट का प्रयोग करते हुए उत्तर दीजिए :

- (a) 'न्यू सेन्सस टाउन्स' में वृद्धि
- (b) ग्रामीण जनसंख्या की तुलना में शहरी जनसंख्या में निवल (नैट) वृद्धि
- (c) संपूर्ण निरक्षर जनसंख्या में गिरावट
- (d) समग्र लिंगानुपात में सुधार

**कूट :**

- (1) (b), (c) और (d) सही हैं।
- (2) (a), (b) और (c) सही हैं।
- (3) (c) और (d) सही हैं।
- (4) (b) और (d) सही हैं।

25. भारत में 2011-15 के दौरान महिलाओं की 'जन्म पर जीवन प्रत्याशा' निम्नलिखित में से कितनी थी ?

- (1) 65 वर्ष
- (2) 68 वर्ष
- (3) 70 वर्ष
- (4) 72 वर्ष

26. अभिकथन (A) :

1981 से शहरी जनसंख्या की वृद्धि दर में घटने की प्रवृत्ति थी, जिसने 2001 से 2011 के दौरान उलटा क्रम दर्शाया।

**तर्क (R) :**

इस दशक के दौरान गांवों से शहरों की ओर प्रवासन ने महत्वपूर्ण वृद्धि दर्ज की।

उपरोक्त दो कथनों के संदर्भ में निम्नलिखित में से कौन सही है ?

- (1) (A) एवं (R) दोनों सही हैं और (R), (A) की सही व्याख्या है।
- (2) (A) एवं (R) दोनों सही हैं, लेकिन (R), (A) की सही व्याख्या नहीं है।
- (3) (A) सही है, और (R) गलत है।
- (4) (A) गलत है, लेकिन (R) सही है।

27. निम्नलिखित में से किस राज्य में 'दस लाख से भी अधिक जनसंख्या वाले' (मिलियन-प्लस) शहर/शहर से सटे शहर (यू.ए.) सबसे ज्यादा है ?

- (1) तमिलनाडु
- (2) केरल
- (3) महाराष्ट्र
- (4) गुजरात

28. मानव विकास रिपोर्ट, 2016 के परिप्रेक्ष्य में निम्नलिखित में से कौन-सा कथन सही नहीं है ?

- (1) मानव विकास सूचकांक के संबंध में भारत की रैंक बदतर हुई है।
- (2) भारत की रैंक 'निम्न मानव विकास वर्ग' में है।
- (3) भारत के मानव विकास सूचकांक की 'वैल्यू' (मान) 0.624 है।
- (4) भारत का प्रदर्शन पाकिस्तान और बांग्लादेश की तुलना में बेहतर रहा है।



29. Match the items in **List - I** with their corresponding descriptions in **List - II** using code given below :

<b>List - I</b>	<b>List - II</b>
(a) Montreal Protocol	(i) Declaration on environment and development
(b) Rio - Summit	(ii) International treaty designed to protect the ozone layer
(c) Kyoto Protocol	(iii) International binding on emission reduction targets
(d) Paris Deal	(iv) United Nations framework convention on climate change

**Code :**

	<b>(a)</b>	<b>(b)</b>	<b>(c)</b>	<b>(d)</b>
(1)	(ii)	(i)	(iii)	(iv)
(2)	(ii)	(iii)	(iv)	(i)
(3)	(iii)	(iv)	(i)	(ii)
(4)	(iv)	(i)	(ii)	(iii)

30. As per NFHS-IV, around what percentage of eligible couples in India use modern contraceptive methods ?

(1) 65%                      (2) 55%                      (3) 48%                      (4) 60%

31. Which of the following combinations is correct in terms of percent population in urban areas in descending order (higher to lower) ? Answer using code given below :

- (a) Europe  
 (b) North America  
 (c) Latin America and the Caribbean  
 (d) Asia

**Code :**

(1)	(b), (a), (c), (d)
(2)	(a), (c), (b), (d)
(3)	(b), (c), (a), (d)
(4)	(c), (b), (a), (d)

32. In which of the following city, new All India Institute of Medical Sciences (AIIMS) is not established under the Prime Minister Swasthya Suraksha Yojana ?

(1) Rishikesh              (2) Jodhpur              (3) Bhubaneswar      (4) Shimla

33. Which of the following conveys the Neutralist Theory of Population and Development ?

- (1) Advantages of population growth  
 (2) Disadvantages of population growth  
 (3) Zero population growth and its advantages  
 (4) Unimportance of population growth



29. नीचे दिए गए कूट का प्रयोग सूची - I में दी गई मदों का सूची - II में दर्शाए गए उनके विवरण से सुमेलित कीजिए :

**सूची - I**

- (a) मान्द्रियल प्रोटोकॉल
- (b) रिओ शिखर सम्मेलन
- (c) क्योटो प्रोटोकॉल
- (d) पेरिस समझौता

**सूची - II**

- (i) पर्यावरण और विकास पर घोषणा
- (ii) ओजोन परत की रक्षा के उद्देश्य से अंतर्राष्ट्रीय संधि
- (iii) उत्सर्जन में कटौती के बारे में अंतर्राष्ट्रीय बाध्यता
- (iv) जलवायु परिवर्तन पर संयुक्त राष्ट्र रूपरेखा 'कन्वेन्शन'

**कूट :**

- |     | (a)   | (b)   | (c)   | (d)   |
|-----|-------|-------|-------|-------|
| (1) | (ii)  | (i)   | (iii) | (iv)  |
| (2) | (ii)  | (iii) | (iv)  | (i)   |
| (3) | (iii) | (iv)  | (i)   | (ii)  |
| (4) | (iv)  | (i)   | (ii)  | (iii) |

30. एन.एफ.एच.एस.-IV के अनुसार निम्नलिखित में से कितने प्रतिशत पात्र-दम्पति भारत में आधुनिक गर्भनिरोधक पद्धतियों का उपयोग करते हैं ?

- (1) 65 प्रतिशत                      (2) 55 प्रतिशत                      (3) 48 प्रतिशत                      (4) 60 प्रतिशत

31. नीचे दिए हुए क्षेत्रों के शहरी क्षेत्रों में जनसंख्या के प्रतिशत के अनुसार अवरोही क्रम (उच्चतर से निम्नतर की ओर) में, निम्नलिखित में से कौन-सा संयोजन सही है ? नीचे दिए गए कूट का प्रयोग करके उत्तर दें :

- (a) यूरोप
- (b) उत्तरी अमेरिका
- (c) लातिनी अमेरिका और कैरेबियन
- (d) एशिया

**कूट :**

- (1) (b), (a), (c), (d)
- (2) (a), (c), (b), (d)
- (3) (b), (c), (a), (d)
- (4) (c), (b), (a), (d)

32. निम्नलिखित में से किस शहर में प्रधान मंत्री स्वास्थ्य सुरक्षा योजना के अन्तर्गत नये अखिल भारतीय आयुर्विज्ञान संस्थान (एम्स) की स्थापना नहीं की गई है ?

- (1) ऋषिकेश                      (2) जोधपुर                      (3) भुवनेश्वर                      (4) शिमला

33. जनसंख्या और विकास के 'तटस्थतावादी सिद्धांत' को निम्नलिखित में से कौन सम्प्रेषित करता है ?

- (1) जनसंख्या वृद्धि के लाभ।
- (2) जनसंख्या वृद्धि की हानियाँ।
- (3) जनसंख्या में शून्य वृद्धि और उसके लाभ।
- (4) जनसंख्या वृद्धि की महत्वहीनता।



34. Which of the following is largest form of soil degradation in India is ?

- (1) Erosion by running water                      (2) Acidification  
(3) Wind erosion    (4) Salinity

35. Match some theories given in **List - I** with their proponents given in **List - II** using code given below :

**List - I**

**List - II**

- (a) Intergenerational wealth flow theory    (i) Kingsely Davis  
(b) The Threshold Hypothesis                      (ii) Easterline  
(c) The theory of change and response              (iii) Caldwell  
(d) Economic framework on fertility              (iv) United Nation

**Code :**

- (a)    (b)    (c)    (d)  
(1)    (iii)    (iv)    (i)    (ii)  
(2)    (i)    (ii)    (iv)    (iii)  
(3)    (iii)    (ii)    (i)    (iv)  
(4)    (iv)    (iii)    (i)    (ii)

36. Major part of the Indian sub-continent comes under which among the following hazard ?

- (1) Flood                      (2) Draught                      (3) Cyclone                      (4) Snow fall

37. Arrange following states, high to low, by their level of infant mortality rate according to SRS Bulletin December 2016 using code given below :

- (a) Madhya Pradesh  
(b) Odisha  
(c) Uttarakhand  
(d) Rajasthan

**Code :**

- (1) (c), (d), (b), (a)  
(2) (a), (b), (d), (c)  
(3) (b), (c), (d), (a)  
(4) (c), (d), (a), (b)

38. As per the SRS Bulletin December 2016, which among the following states is having the lowest infant mortality rate ?

- (1) Himachal Pradesh                      (2) Telangana  
(3) Chattisgarh                                      (4) Jharkhand





34. भारत में मिट्टी के क्षय का निम्नलिखित में से कौन-सा विशालतम रूप है ?

- (1) बहते पानी से क्षरण (2) अम्लीकरण  
(3) वायु क्षरण (4) लवणता

35. नीचे दिए हुये कूट का उपयोग करके सूची - I में दिए गए कुछ सिद्धांतों को सूची - II में दिए गए उनके प्रवर्तकों से सुमेलित कीजिए :

**सूची - I**

**सूची - II**

- (a) अंतर-पीढ़ीय सम्पत्ति प्रवाह सिद्धांत  
(इंटरजेनेरेशनल वेल्थ फ्लो थ्योरी)  
(b) 'द थ्रेशोल्ड' हाइपोथेसिस (परिकल्पना)  
(c) परिवर्तन और अनुक्रिया सिद्धांत  
(द थ्योरी ऑफ चेंज एंड रेसपोन्स)  
(d) जननक्षमता के बारे में आर्थिक रूपरेखा
- (i) किंग्सले डेविस  
(ii) ईस्टरलिन  
(iii) कैडवेल  
(iv) संयुक्त राष्ट्र संघ

**कूट :**

- |     | (a)   | (b)   | (c)  | (d)   |
|-----|-------|-------|------|-------|
| (1) | (iii) | (iv)  | (i)  | (ii)  |
| (2) | (i)   | (ii)  | (iv) | (iii) |
| (3) | (iii) | (ii)  | (i)  | (iv)  |
| (4) | (iv)  | (iii) | (i)  | (ii)  |

36. भारतीय उपमहाद्वीप का एक बड़ा भाग निम्नलिखित में से किस आपदा के अंतर्गत आता है ?

- (1) बाढ़ (2) सूखा (3) चक्रवात (4) बर्फबारी

37. नीचे दिए हुये कूट का प्रयोग करके एस.आर.एस. बुलेटिन, दिसंबर 2016 के अनुसार निम्नलिखित राज्यों की शिशु मृत्यु दर स्तर को उच्च से निम्न की ओर व्यवस्थित कीजिए :


- (a) मध्य प्रदेश  
(b) ओडिशा  
(c) उत्तराखंड  
(d) राजस्थान

**कूट :**

- (1) (c), (d), (b), (a)  
(2) (a), (b), (d), (c)  
(3) (b), (c), (d), (a)  
(4) (c), (d), (a), (b)

38. एस.आर.एस. बुलेटिन, दिसंबर 2016 के अनुसार निम्नलिखित में से किस राज्य में निम्नतम शिशु मृत्यु दर है ?

- (1) हिमाचल प्रदेश (2) तेलंगाना  
(3) छत्तीसगढ़ (4) झारखंड



39. Compared to men, women have lower HDI value across the world. Which of the following has the largest gap in HDI of men and women in the world ?

- (1) South Asia      (2) Africa      (3) Latin America      (4) Oceania

40. **Assertion (A) :**

Women belonging to low socio - economic status are more likely to experience violence as compared to those belonging to high socio-economic status.

**Reason (R) :**

Women belonging to low socio-economic status are married to less educated husband.

**Code :**

- (1) Both (A) and (R) are true and (R) is the correct explanation of (A).  
(2) Both (A) and (R) are true, but (R) is not the only explanation of (A).  
(3) (A) is true, but (R) is false.  
(4) (A) is false, but (R) is true.

41. According to 2011 census, proportion of 0 - 6 population is lowest in which of the following states ?

- (1) Gujarat      (2) Tamil Nadu  
(3) Andhra Pradesh      (4) Punjab

42. Millenium Development Goals (MDGs) were replaced by sustainable Development Goals (SDGs) in 2016 including some of the new areas of concerns given below :

- (a) Climate change  
(b) Economic inequality  
(c) Sustainable consumption  
(d) Eradicating extreme poverty

Find out the correct combination using code given below :

**Code :**

- (1) (a), (b) and (c)  
(2) (a), (b) and (d)  
(3) (a), (c) and (d)  
(4) (b), (c) and (d)



39. विश्व में पुरुषों की तुलना में महिलाओं का 'मानव विकास सूचकांक' कम है। विश्व में पुरुषों और महिलाओं के मानव विकास सूचकांक में सर्वाधिक अंतर निम्नलिखित में से कहाँ है?

- (1) दक्षिण एशिया (2) अफ्रीका (3) लातीनी अमेरिका (4) ओसिनिया

40. अभिकथन (A) :

उच्च सामाजिक-आर्थिक हैसियत से संबंधित महिलाओं की तुलना में निम्न सामाजिक-आर्थिक हैसियत से संबंधित महिलायें हिंसा की शिकार होने की अधिक संभावना होती है।

तर्क (R) :

निम्न सामाजिक-आर्थिक स्थिति वाले परिवारों की महिलाओं का विवाह आम तौर पर कम शिक्षित पति के साथ होता है।

कूट :

- (1) (A) एवं (R) दोनों सही हैं और (R), (A) की सही व्याख्या है।  
(2) (A) एवं (R) दोनों सही हैं, लेकिन (R), (A) की केवल सही व्याख्या नहीं है।  
(3) (A) सही है, लेकिन (R) गलत है।  
(4) (A) गलत है, लेकिन (R) सही है।

41. 2011 की जनसंख्या के अनुसार, निम्नलिखित में से किस राज्य में 0-6 वर्ष की उम्र की जनसंख्या का अनुपात निम्नतम है?

- (1) गुजरात (2) तमिलनाडु (3) आंध्र प्रदेश (4) पंजाब

42. सहस्राब्दी विकास लक्ष्यों (एम.डी.जी.) को 2016 में टिकाऊ विकास लक्ष्यों (एस.डी.जी.) से प्रतिस्थापित किया गया था, जिनमें निम्नलिखित सरोकारों के नए क्षेत्रों को सम्मिलित किया गया था। निम्न कूट का प्रयोग करके उत्तर चुनें।

- (a) जलवायु परिवर्तन  
(b) आर्थिक असमानता  
(c) टिकाऊ उपभोग  
(d) अति-गरीबी का उन्मूलन

सही संयोजन बताइए।

कूट :

- (1) (a), (b) और (c)  
(2) (a), (b) और (d)  
(3) (a), (c) और (d)  
(4) (b), (c) और (d)



43. Match Mortality measures given in List - I with their definitions in List - II using code given below :

List - I		List - II	
(a) Neo-natal mortality	(i)	The mortality of live-born after first week but before 28 days of life	
(b) Early Neo-natal mortality	(ii)	The Mortality of life-born after one month but before reaching the age of one year	
(c) Late Neo-natal mortality	(iii)	The mortality of live-born before completing four weeks or 28 days	
(d) Post-neo-natal mortality	(iv)	The mortality of live-born during the first week of life	

Code :

	(a)	(b)	(c)	(d)
(1)	(i)	(ii)	(iii)	(iv)
(2)	(ii)	(iii)	(iv)	(i)
(3)	(iii)	(iv)	(i)	(ii)
(4)	(iv)	(iii)	(ii)	(i)

44. According to data published in SRS Bulletin December 2016, Which state of India has the highest *natural growth* rate of population ?
- (1) Bihar (2) Madhya Pradesh  
(3) Rajasthan (4) Uttar Pradesh
45. Which one of the following is correct percentage of India's population aged 0 - 4 years according to the 2011 census ?
- (1) Approx. 8 percent (2) Approx. 9 percent  
(3) Approx. 10 percent (4) Approx. 11 percent
46. Which of the following sources or combination of sources are used to measure Total Fertility Rate (TFR) in India ?
- (1) Sample Registration System  
(2) Demographic Surveys  
(3) Census and Sample Registration System  
(4) Demographic Surveys and Sample Registration System
47. As per the NFHS - III and NFHS - IV data, which of the following state has recorded steepest decline in T.F.R. ?
- (1) Andhra Pradesh (2) Bihar  
(3) Rajasthan (4) Uttar Pradesh



43. निम्न कूट का प्रयोग करके सूची - I में दिए गए मृत्युता मापनों को सूची - II में दर्शाई गई उनकी परिभाषाओं से सुमेलित कीजिए :

**सूची - I**

**सूची - II**

- |  |  |
|--|--|
| (a) नवजात शिशु की मृत्युता             | (i) जीवित जन्म लेने पर एक सप्ताह बाद, लेकिन जीवन के 28 दिनों से पूर्व मृत्यु           |
| (b) नवजात शिशु की प्रारंभ में मृत्युता | (ii) जीवित जन्म लेने के एक मास के बाद, लेकिन एक वर्ष की आयु पर पहुँचने से पूर्व मृत्यु |
| (c) नवजात शिशु की देर से मृत्युता      | (iii) जीवित जन्म लेने पर चार सप्ताह या 28 दिन पूरे करने से पूर्व मृत्यु                |
| (d) नवजात शिशु की बाद में मृत्युता     | (iv) जीवित जन्म लेने पर जीवन के पहले सप्ताह के दौरान मृत्यु                            |

**कूट :**

- |     | (a)   | (b)   | (c)   | (d)  |
|-----|-------|-------|-------|------|
| (1) | (i)   | (ii)  | (iii) | (iv) |
| (2) | (ii)  | (iii) | (iv)  | (i)  |
| (3) | (iii) | (iv)  | (i)   | (ii) |
| (4) | (iv)  | (iii) | (ii)  | (i)  |

44. एस.आर.एस. बुलेटिन, दिसंबर 2016 में प्रकाशित आंकड़ों के अनुसार, भारत के किस राज्य में जनसंख्या की सर्वाधिक 'प्राकृतिक वृद्धि' दर है?
- |              |                  |
|--------------|------------------|
| (1) बिहार    | (2) मध्य प्रदेश  |
| (3) राजस्थान | (4) उत्तर प्रदेश |
45. 2011 की भारत की जनगणना के अनुसार 0 - 4 वर्ष के आयु समूह की जनसंख्या का लगभग प्रतिशत है :
- |                     |                     |
|---------------------|---------------------|
| (1) लगभग 8 प्रतिशत  | (2) लगभग 9 प्रतिशत  |
| (3) लगभग 10 प्रतिशत | (4) लगभग 11 प्रतिशत |
46. भारत में कुल प्रजनन दर (टी.एफ.आर.) के मापन में निम्नलिखित में से कौनसे स्रोत या स्रोतों का प्रयोग होता है?
- |   |
|---|
| (1) नमूना पंजीकरण प्रणाली                           |
| (2) जनसांख्यिकीय सर्वेक्षण                          |
| (3) जनगणना और नमूना पंजीकरण प्रणाली                 |
| (4) जनसांख्यिकीय सर्वेक्षण और नमूना पंजीकरण प्रणाली |
47. एन.एफ.एच.एस.-III और एन.एफ.एच.एस.-IV के आंकड़ों के अनुसार, निम्नलिखित में से किस राज्य में टी.एफ.आर. में सबसे तेज गिरावट दर्ज की है?
- |                  |                  |
|------------------|------------------|
| (1) आंध्र प्रदेश | (2) बिहार        |
| (3) राजस्थान     | (4) उत्तर प्रदेश |



48. Using codes given below rank the following states according to their population density in 2011 census, high to low :

- (a) Bihar
- (b) West Bengal
- (c) Kerala
- (d) Uttar Pradesh

**Code :**

- (1) (d), (c), (b), (a)
- (2) (a), (b), (c), (d)
- (3) (b), (a), (c), (d)
- (4) (d), (c), (a), (b)

49. Arrange the following states, from highest to lowest, based on proportion of women who are overweight/obese according to NFHS - 4.

- (a) Haryana
- (b) Goa
- (c) Gujarat
- (d) Tamil Nadu

**Code :**

- (1) (d), (c), (a), (b)
- (2) (b), (c), (d), (a)
- (3) (c), (d), (a), (b)
- (4) (b), (d), (c), (a)

50. Out of the following Ministries/organizations, which one was responsible for making last set of available population projections ? Answer using codes given below :

- (a) Ministry of Health and Family Welfare
- (b) National Population commission
- (c) Planning Commission
- (d) International Institute for Population Sciences

**Code :**

- (1) (a) alone
- (2) (a) and (d)
- (3) (a), (b) and (d)
- (4) None of the above

- o O o -



48. नीचे दिए गए कूटों का प्रयोग करके 2011 की जनगणना की जनसंख्या-घनत्व के अनुसार निम्नलिखित राज्यों को अधिक से कम की ओर व्यवस्थित करें :

- (a) बिहार
- (b) पश्चिम बंगाल
- (c) केरल
- (d) उत्तर प्रदेश

**कूट :**

- (1) (d), (c), (b), (a)
- (2) (a), (b), (c), (d)
- (3) (b), (a), (c), (d)
- (4) (d), (c), (a), (b)

49. एन.एफ.एच.एस.-4 के अनुसार महिलाओं में अतिभार (ओवरवेट)/मोटापा (ओबेसी) के अनुपात पर आधारित उच्चतम से निम्नतम की ओर वाले राज्यों को व्यवस्थित कीजिए :

- (a) हरियाणा
- (b) गोवा
- (c) गुजरात
- (d) तमिलनाडु

**कूट :**

- (1) (d), (c), (a), (b)
- (2) (b), (c), (d), (a)
- (3) (c), (d), (a), (b)
- (4) (b), (d), (c), (a)

50. निम्न में से कौन से मंत्रालय/संगठन उपलब्ध, जनसंख्या प्रक्षेपण के अन्तिम सेट बनाने के लिए उत्तरदायी हैं? नीचे दिये गए कूट का उपयोग करते हुए उत्तर दें :

- (a) स्वास्थ्य और परिवार कल्याण मंत्रालय
- (b) राष्ट्रीय जनसंख्या आयोग
- (c) योजना आयोग
- (d) जनसंख्या विज्ञान के लिए अन्तर्राष्ट्रीय संस्थान

**कूट :**

- (1) केवल (a)
- (2) (a) और (d)
- (3) (a), (b) और (d)
- (4) उपरोक्त में से कोई भी नहीं

- o O o -



**Space For Rough Work**

